


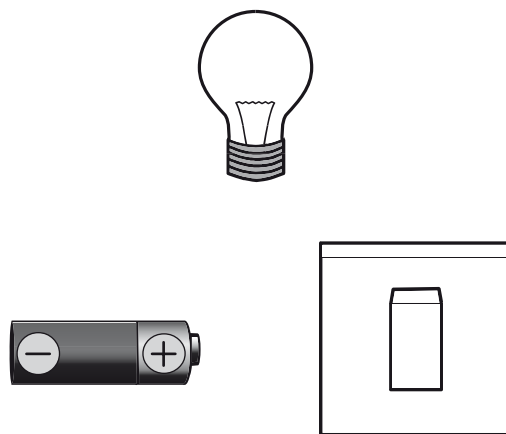
Elektrické obvody

Meno - _____

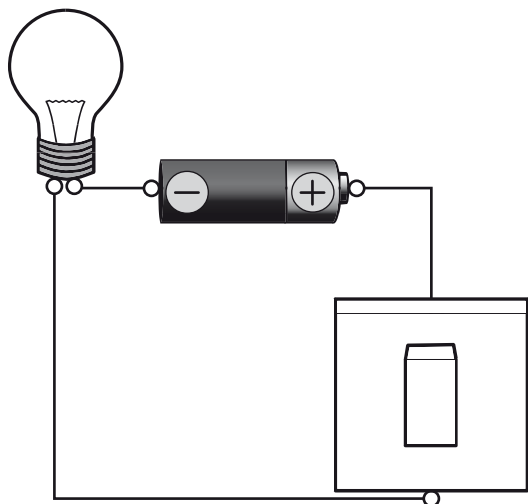
1. Zakreslite do obrázka drôty tak, aby žiarovka svietila.



2. Zakreslite do obrázka drôty tak, aby sa žiarovka dala zapnúť a vypnúť.



3. Rozsvieti sa žiarovka? Zdôvodnite svoju odpoveď.



4. Bude zvonček zvonieť? Zdôvodnite svoju odpoveď.

