


Pracovný hárok 6


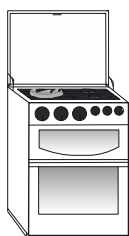


Obnoviteľné a neobnoviteľné zdroje energie

Meno - _____

Spojte obrázok naľavo s obrázkom zdroja napravo, ktorý mu dodáva energiu.
Potom krížikom označte, či je daný zdroj energie obnoviteľný alebo neobnoviteľný.

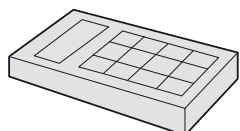
Sporák



Slnko

Obnoviteľný zdroj
Neobnoviteľný zdroj

Kalkulačka na solárne napájanie



Vietor

Obnoviteľný zdroj
Neobnoviteľný zdroj


Vrtuľka



Uhlie

Obnoviteľný zdroj
Neobnoviteľný zdroj

Kozub alebo kachle



Plyn

Obnoviteľný zdroj
Neobnoviteľný zdroj